

かじつそろばん教室

8級レベル 第1回

応用計算問題

(制限時間 10分)

ばんごう 番号	
なまえ 名前	

(1) ~ (4) の にあてはまる数を求めなさい。

(1) $524 \times (3 + 6) =$

(2) $\div 6 - 29 = 138$

(3) $18 \times 27 \div 7 =$

(4) / 時間 25分 + 53分 = 時間 分

(5) ~ (8) の空らんを求めなさい。

1個の値段(円)	個数	代金(円)
(5)	6	372
7	(6)	546
698	5	(7)
521	4	(8)

(9) 307本のえんぴつを8人に同じ数ずつ分けます。最後にはんぱになって残るえんぴつは何本ですか。

(10) 商品が320個あります。 /箱に9個ずつ入れると、ぜんぶ入れるのに何箱必要ですか。

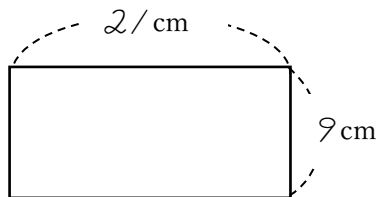
(11) /個 ¥8/2の品物を6個買いました。 ¥5,000 出すと、おつりはいくらになりますか。

(12) /ケースに2/6本入っています。7ケースでは、何本ですか。

(13) えんぴつが253本あります。これを4本ずつ束にすると、4本の束は何束できますか。

(14) 8人から集めたお金が、 ¥360 になった。 /人いくらずつ集めたことになりますか。

(15) たて9cm, 横2/cmの長方形の面積は何cm² ですか。



(1) 答え

(2) 答え

(3) 答え

(4) 答え 時間 分

(5) 答え

(6) 答え

(7) 答え

(8) 答え

(9) 答え

(10) 答え

(11) 答え

(12) 答え

(13) 答え

(14) 答え

(15) 答え

ひょうてん
評点

かじつそろばん教室

8級レベル 第2回

応用計算問題

(制限時間 10分)

ばんごう 番号	
なまえ 名前	

(1) ~ (4) の にあてはまる数を求めなさい。

(1) $58 \div (5 + 2) = \text{$

(2) $\text{} \times 8 - 4 = 2,148$

(3) $80 \div 2 \times 6 = \text{$

(4) 5時間 / 9分 - 3時間 36分 = 時間 分

(5) ~ (8) の空らんを求めなさい。

1個の値段(円)	個数	代金(円)
(5)	5	180
152	4	(6)
9	(7)	162
(8)	3	255

(9) /箱の重さは80gです。4箱では何gですか。

(10) /50個のものを、4個ずつ箱に入れます。4個入りの箱は何箱できますか。

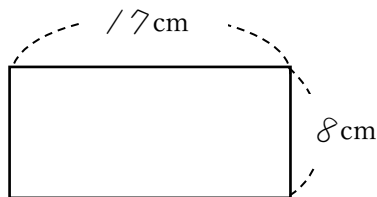
(11) 5個買って、¥420 はらいました。/個いくらでしたか。

(12) / /6 人の団体が旅行をします。9人乗りの車が何台必要ですか。

(13) /25 人の生徒が8人ずつのグループに分かれます。最後に何人残るでしょう。

(14) ¥700 持っています。/個¥98 の品物を7個買うと、残ったお金はいくらですか。

(15) たて8cm、横7cmの長方形の面積は何cm² ですか。



(1) 答え

(2) 答え

(3) 答え

(4) 答え 時間 分

(5) 答え

(6) 答え

(7) 答え

(8) 答え

(9) 答え

(10) 答え

(11) 答え

(12) 答え

(13) 答え

(14) 答え

(15) 答え

ひょうてん
評点

かじつそろばん教室

8級レベル 第3回

応用計算問題

(制限時間 10分)

ばんごう 番号	
なまえ 名前	

(1) ~ (4) の にあてはまる数を求めなさい。

(1) $576 \times (90 - 85) =$

(2) $\div 8 + 46 = 558$

(3) $102 \times 4 \div 8 =$

(4) 4時間20分 + 3時間48分 = 時間 分

(5) ~ (8) の空らんを求めなさい。

1個の値段(円)	個数	代金(円)
725	8	(5)
9	(6)	576
(7)	7	105
6	(8)	420

(9) / ケースに5本入っています。3/2ケースでは、何本ですか。

(10) 8人から集めたお金が、¥680になった。/ 人いくらずつ集めたことになりますか。

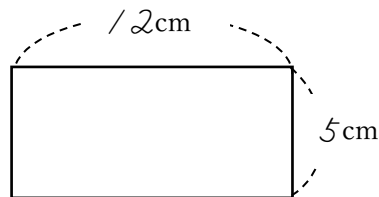
(11) 300個のビー玉を7個ずつ、ふくろに入れます。最後に何個あまりますか。

(12) 倉庫に商品が298個あります。/ 回に6個ずつ運ぶと、ぜんぶ運び出すには何回かかりますか。

(13) えんぴつが263本あります。これを4本ずつ束にすると、4本の束は何束できますか。

(14) / 個 ¥875 の品物を3個買いました。¥3,000 出すと、おつりはいくらになりますか。

(15) たて5cm、横/2cmの長方形の面積は何cm² ですか。



(1) 答え

(2) 答え

(3) 答え

(4) 答え 時間 分

(5) 答え

(6) 答え

(7) 答え

(8) 答え

(9) 答え

(10) 答え

(11) 答え

(12) 答え

(13) 答え

(14) 答え

(15) 答え

ひょうてん
評点

かじつそろばん教室

8級レベル 第4回

応用計算問題

(制限時間 10分)

ばんごう 番号	
なまえ 名前	

(1) ~ (4) の にあてはまる数を求めなさい。

(1) $119 \div (54 - 47) =$

(2) $\times 5 + 38 = 208$

(3) $520 \div 8 \times 9 =$

(4) 5時間7分 - 時間 / 6分 = 時間 分

(5) ~ (8) の空らんを求めなさい。

1個の値段(円)	個数	代金(円)
4	(5)	248
298	7	(6)
(7)	9	522
8	(8)	96

(9) 入場券を8人分買ったなら、¥720でした。1人分の入場券はいくらですか。

(10) 105人の団体が旅行をします。6人乗りの車が何台必要ですか。

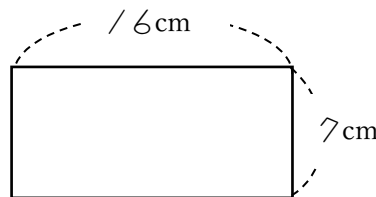
(11) 97個のものを、7個ずつ箱に入れます。7個入りの箱は何箱できますか。

(12) ¥5,000 持っています。1個¥624の品物を8個買くと、残ったお金はいくらですか。

(13) 400人の生徒が9人ずつのグループに分かれます。最後に何人残るでしょう。

(14) 1本の長さは107cmです。8本では何cmですか。

(15) たて7cm、横6cmの長方形の面積は何cm²ですか。



(1) 答え

(2) 答え

(3) 答え

(4) 答え 時間 分

(5) 答え

(6) 答え

(7) 答え

(8) 答え

(9) 答え

(10) 答え

(11) 答え

(12) 答え

(13) 答え

(14) 答え

(15) 答え

ひょうてん
評点